


RYTMICKÉ HODNOTY - NOTY A POMLKY I.


1. Přiřad' pomlku k notě stejné délky



2. Doplň taktové čáry



3. Přiřad' správně noty a pomlky k jejich názvu a do tajenky napiš písmeno, které je u nich napsané. Vyjde ti jedno důležité italské slovíčko, které souvisí s tempem. Znáš jeho význam?



T

R

P



S

O

E

Půlová nota

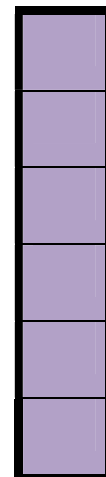
Čtvrt'ová nota

Celá pomlka

Celá nota

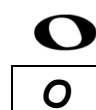
Čtvrt'ová pomlka

Půlová pomlka



RYTMICKÉ HODNOTY - NOTY A POMLKY II.

Přiřaď správně noty a pomlky k jejich názvu a do tajenky napiš písmeno, které je u nich napsané. Vyjde ti jedno důležité italské slovíčko, které souvisí s tempem. Znáš jeho význam?



T



L



G



R



A



Šestnáctinová pomlka

Čtvrt'ová pomlka

Osminová nota

Půlová nota

Osminová pomlka

Celá pomlka

Šestnáctinová nota

Půlová pomlka

Čtvrt'ová nota

Celá nota

