

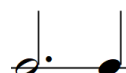
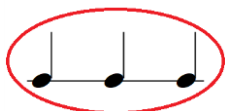
# RYTMICKÉ HODNOTY - NOTY I.

1. Zakroužkuj:

modře všechny příklady, ve kterých jsou 2 doby

červeně všechny příklady, ve kterých jsou 3 doby

zeleně všechny příklady, ve kterých jsou 4 doby



2. Dopiš do skladbičky taktové čáry



3. Spočítej početní příklady

$$d. + \bullet + \circ = \dots\dots\dots$$






$$\bullet + d + d. + \bullet = \dots\dots\dots$$

$$d + \bullet + \circ + d. = \dots\dots\dots$$



## RYTMICKÉ HODNOTY - NOTY II.

1. Přiřad' správně noty a pomlky k jejich názvu a do tajecky napiš písmeno, které je u nich napsané. Vyjde ti jedno důležité italské slovíčko. Znáš jeho význam?

		
F	E	T
		
R	O	


Šestnáctinová nota

Čtvrt'ová nota

Celá nota

Půlová nota

Osminová nota



2. Dopiš do skladbičky taktové čáry

3. Spoj k sobě příklady se stejným počtem dob

## RYTMICKÉ HODNOTY - NOTY III.

1. Spoj k sobě příklady se stejným počtem dob



2. Dopiš taktové čáry



3. Dopiš do každého taktu jednu notu, aby taktové označení odpovídalo

